

## 4

## 立體圖形

1

角柱和圓柱



活動：它像哪一種柱體？

媽媽給小朋友準備小食，這是其中一些食品。



這些食品的包裝像什麼柱體？

在橫線上填寫各柱體的名稱。



活動：辨認立體模型

①



②



③



④



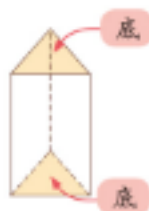
說一說。

① 哪幾種食品的包裝像角柱？

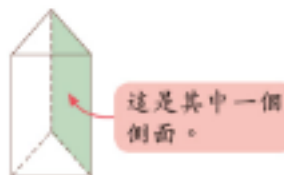
② 餘下的像哪一種柱體？

## 2 柱體的底和側面

A ① 看看這個三角柱。



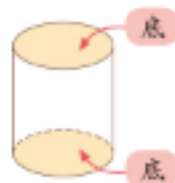
它有 2 個底，2 個底是形狀和大小都相同的三角形。



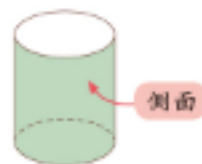
它有 3 個側面，每個側面都是四邊形。



② 看看這個圓柱。



它有 2 個底，2 個底是形狀和大小都相同的圓形。



它有 1 個側面，側面是一個曲面。

B 看看下列角柱的底和側面，並在  內填寫答案。



①

三角柱



按一下文字「底」或「側面」來顯示。

底



有  個底

側面



有  個側面