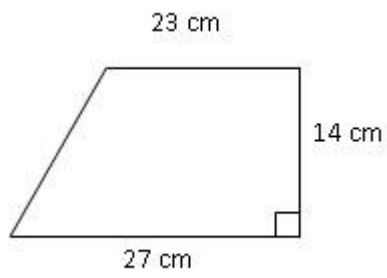


以下梯形的面積是多少平方厘米？ *



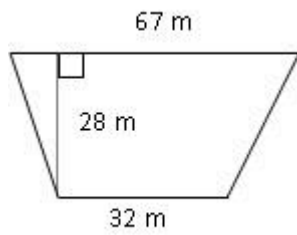
350 平方厘米

450 平方厘米

550 平方厘米

650 平方厘米

以下梯形的面積是多少平方米？ *



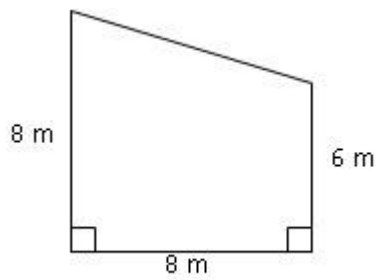
1265 平方米

1386 平方米

1438 平方米

1345 平方米

以下梯形的面積是多少平方米？ *



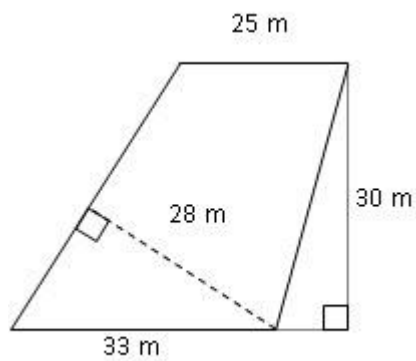
45 平方米

52 平方米

56 平方米

64 平方米

以下梯形的面積是多少平方米？ *



840 平方米

850 平方米

860 平方米

870 平方米

請閱讀以下題目，並選出正確答案。 *

梯形的上底是 7cm，下底是 17cm，面積是 240cm^2 。
它的高是多少 cm？

15cm

20cm

25cm

30cm